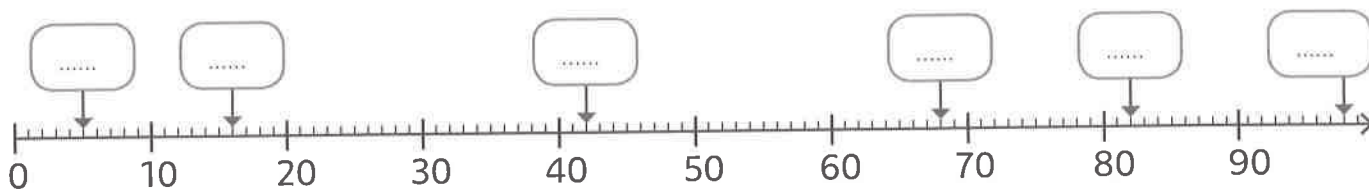





① Place au bon endroit les nombres suivants sur la droite graduée.

98 16 42 5 68 82

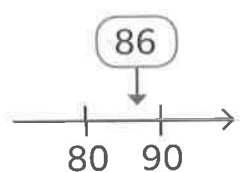


② Place les nombres sur les droites graduées.

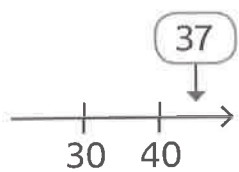
63 48 236 41 217 251 29 222



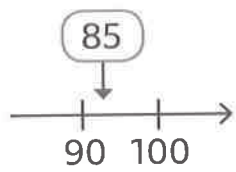
③ Les nombres sont-ils bien placés sur la droite graduée ? Coche vrai ou faux.



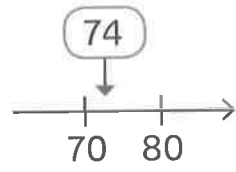
vrai faux



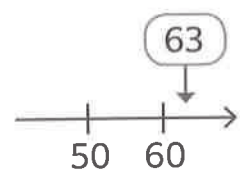
vrai faux



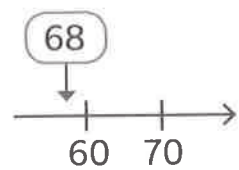
vrai faux



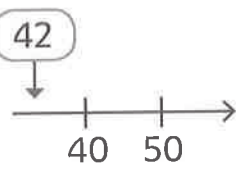
vrai faux



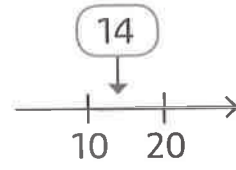
vrai faux



vrai faux



vrai faux



vrai faux

④ Propose un nombre qui pourrait aller dans chaque étiquette.

