

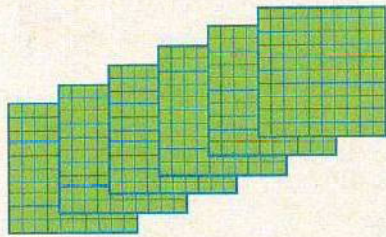
## Les nombres jusqu'à 1 000

⇒ Calcul mental : Compter de 20 en 20 à partir d'un nombre *du* quelconque, à l'endroit et à l'envers.



### Je comprends

⇒ Activité de découverte : Représentation de nombres à l'aide de plaques, barres et cubes.



6 centaines  
600



1 dizaine  
10

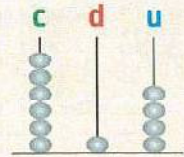


4 unités  
4

$$+ 4 = 614$$

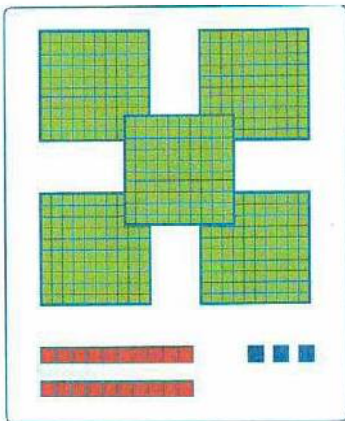
c	d	u
6	1	4

Sur un abaque :

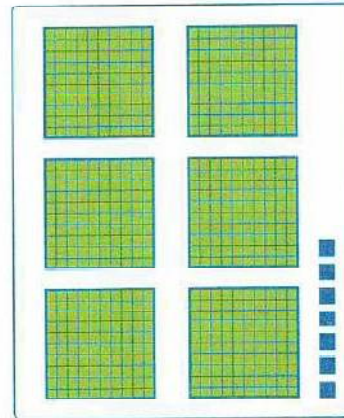



### Je m'entraîne

1 \* Écris les nombres et **représente**-les sur les abaques.




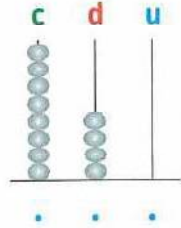

c	d	u
.	.	.



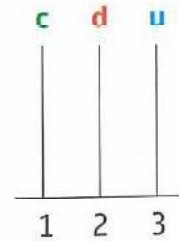

c	d	u
.	.	.



2 \* Écris les nombres.



3 \* Complète les abaques.



4 \* Complète.

- 968, c'est ..... centaines, ..... dizaines et ..... unités.
- ....., c'est 6 centaines et 2 unités.

5 \*\* Trouve le nombre mystérieux.

Mon chiffre des centaines est 8.  
Le chiffre des dizaines et des unités du nombre qui me suit est 0.

Je suis : .....

